

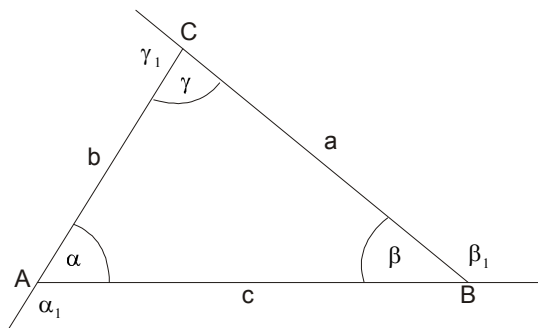
2. UČENIK UME DA KORISTI OSNOVNA SVOJSTVA TROUGLA, ČETVOROUGLA, PARALELOGRAMA I TRAPEZA, RAČUNA NJIHOVE OBIME I POVRŠINE

Vreme je da se podsetimo svih potrebnih formula.....

TROUGAO

Mnogougao koji ima tri stranice zove se **trougao**. Osnovni elementi trougla su :

- Temena A,B,C
- Stranice a,b,c (po dogovoru stranice se obeležavaju nasuprot temenu, npr naspram temena A je stranica a, itd)
- Uglovi , unutrašnji α, β, γ i spoljašnji $\alpha_1, \beta_1, \gamma_1$



Osnovne relacije za uglove i stranice trougla su:

- 1) Zbir unutrašnjih uglova u trouglu je 180^0 tj. $\alpha + \beta + \gamma = 180^0$
- 2) Zbir spoljašnjih uglova je 360^0 tj. $\alpha_1 + \beta_1 + \gamma_1 = 360^0$
- 3) Spoljašnji i njemu susedni unutrašnji ugao su uporedni, tj.

$$\alpha + \alpha_1 = \beta + \beta_1 = \gamma + \gamma_1 = 180^0$$

- 4) Spoljašnji ugao trougla jednak je zbiru dva nesusedna unutrašnja ugla, tj

$$\alpha_1 = \beta + \gamma \quad \beta_1 = \alpha + \gamma \quad \gamma_1 = \alpha + \beta$$

- 5) Svaka stranica trougla manja je od zbira a veća od razlike druge dve stranice, tj

$$|a - b| < c < a + b$$

$$|a - c| < b < a + c$$

$$|b - c| < a < b + c$$

- 6) Naspram većeg ugla nalazi se veća stranica i obrnuto.

Ako je $\alpha = \beta$ onda je $a = b$

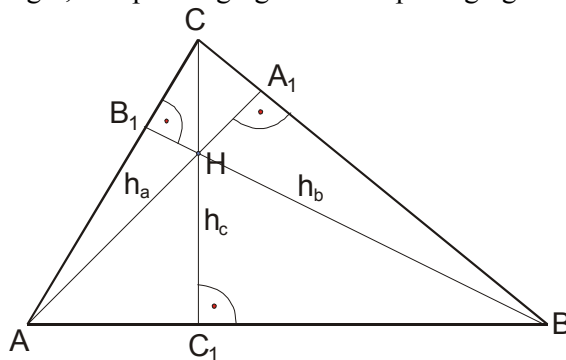
Ako je $a = b$ onda je $\alpha = \beta$

Četiri značajne tačke trougla su:

- 1) Ortocentar (H)
- 2) Težište (T)
- 3) Centar upisane kružnice (S)
- 4) Centar opisane kružnice (O)

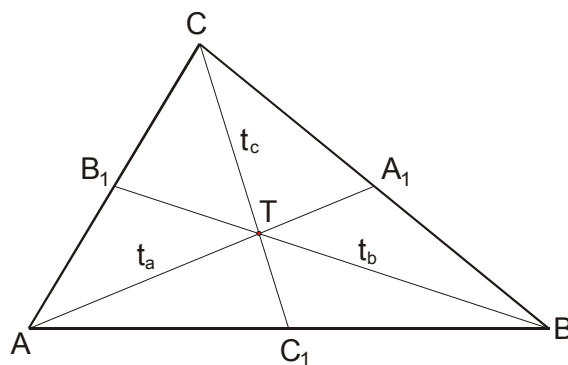
Ortocentar se nalazi u preseku visina trougla h_a, h_b, h_c . (Visina je najkraće rastojanje od temena do naspramne stranice).

Kod oštroglog trougla je u trouglu, kod pravouglog u temenu pravog ugla a kod tupouglog van trougla.



$$h_a \cap h_b \cap h_c = H \quad \text{Ortocentar}$$

Težišna duž trougla je duž koja spaja teme sa sredinom naspramne stranice. Težišne duži seku se u jednoj tački, a to je **TEŽIŠTE TROUGLA**. Težište deli težišnu duž u razmeri 2:1.



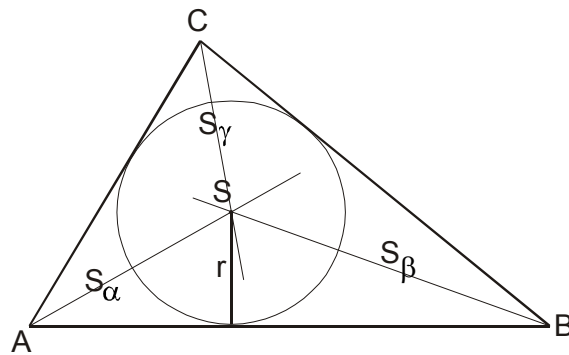
$$t_a \cap t_b \cap t_c = T$$

$$AT : TA_1 = 2 : 1$$

$$BT : TB_1 = 2 : 1$$

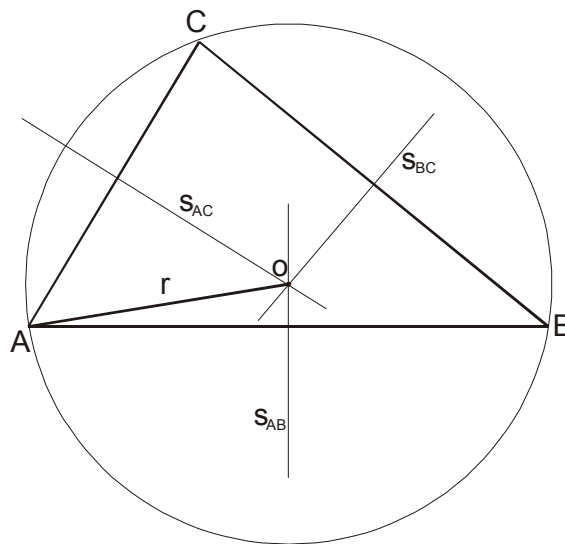
$$CT : TC_1 = 2 : 1$$

Centar upisane kružnice je tačka preseka simetrala uglova i kod svih trouglova je u oblasti trougla.



$$s_{\alpha} \cap s_{\beta} \cap s_{\gamma} = S$$

Centar opisane kružnice je tačka preseka simetrala stranica. Kod oštroglog trougla je u trouglu, kod pravouglog na sredini hipotenuze i kod tupouglog van trougla.



$$s_{AB} \cap s_{AC} \cap s_{BC} = O$$

Vrste trouglova:

Trouglovi se dele prema “stranicama” i prema “uglovima”.

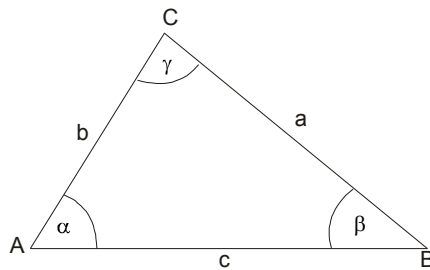
Prema stranicama:

- 1) jednakostranični
- 2) jednakokraki
- 3) nejednakostranični

Prema uglovima:

- 1) oštrogli
- 2) pravougli
- 3) tupougli

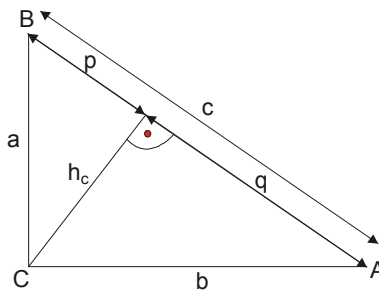
Nejednakostranični



$$O = a + b + c$$

$$P = \frac{ah_a}{2} = \frac{bh_b}{2} = \frac{ch_c}{2}$$

Pravougli:



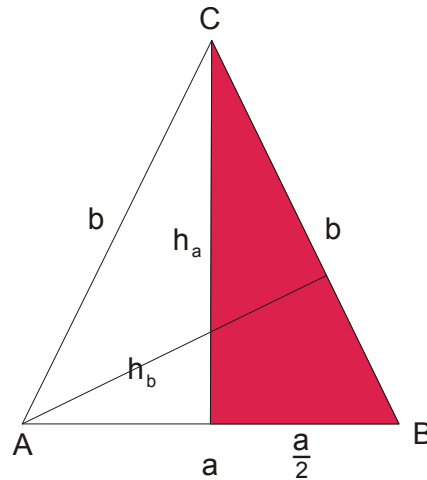
$$O = a + b + c$$

$$P = \frac{ab}{2} \quad \text{ili} \quad P = \frac{ch_c}{2} \quad \text{odavde je:} \quad h_c = \frac{a \cdot b}{c}$$

$$a^2 + b^2 = c^2 \quad \text{Pitagorina teorema}$$

$$R = \frac{c}{2}; \quad r = \frac{a+b-c}{2}; \quad h_c = \sqrt{pq}; \quad a = \sqrt{pc}; \quad b = \sqrt{qc}; \quad c = p+q$$

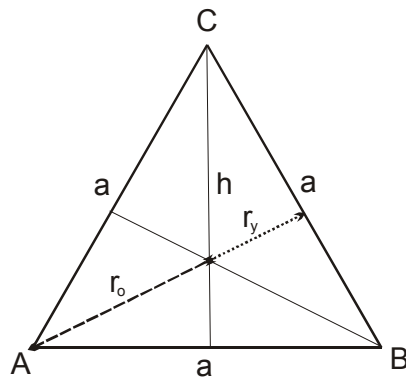
Jednakokraki :



Ovde je a osnova i b krak (kraci)

$$O = a + 2b \quad P = \frac{ah_a}{2} = \frac{bh_b}{2} \quad \text{Primena Pitagorine teoreme: } h_a^2 + \left(\frac{a}{2}\right)^2 = b^2$$

Jednakostranični:

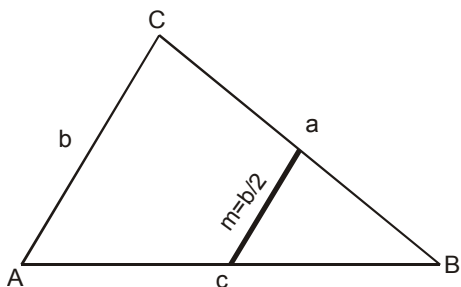
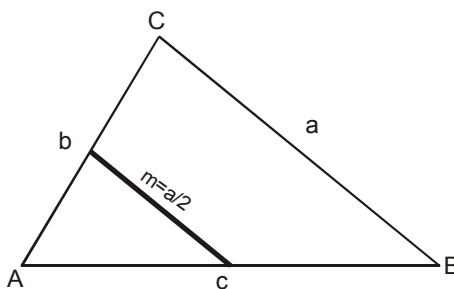
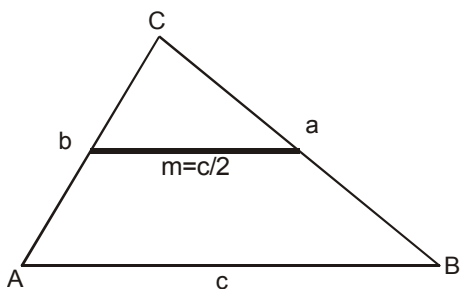


$$O = 3a \quad \text{i} \quad P = \frac{a^2\sqrt{3}}{4}$$

$$\text{Visina } h = \frac{a\sqrt{3}}{2}; \quad r_y = \frac{1}{3}h = \frac{a\sqrt{3}}{6}; \quad r_o = \frac{2}{3}h = \frac{a\sqrt{3}}{3}$$

Kod ovog trougla sve četiri značajne tačke se nalaze u jednoj tački.

Srednja linija trougla (m) je duž koja spaja sredine dve stranice i uvek je jednaka polovini paralelne stranice.



Podudarnost

$$\triangle ABC \cong \triangle A_1B_1C_1 \Leftrightarrow$$

(SSS) Ako su sve stranice jednog trougla jednake odgovarajućim stranicama drugog trougla.

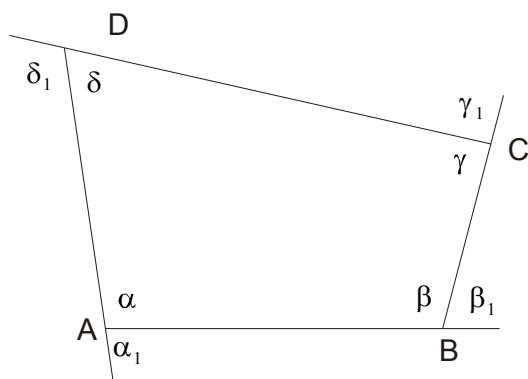
(SUS) Ako su dve stranice i zahvaćeni ugao jednog trougla jednaki dvema stranicama i zahvaćenom uglu drugog trougla.

(USU) Ako su stranica i na nju nalegli uglovi jednog trougla jednaki sa stranicom i na nju naleglim uglovima drugog trougla.

(SSU) Ako su dve stranice i ugao naspram veće od njih jednog trougla jednaki dvema stranicama i uglu naspram veće od njih drugog trougla.

ČETVOROUGAO

Mnogougao koji ima četiri stranice naziva se četvorougao.

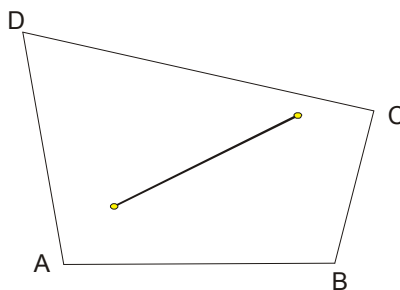


Za svaki četvorougao važi da im je zbir unutrašnjih i spoljašnjih uglova isti i iznosi 360^0

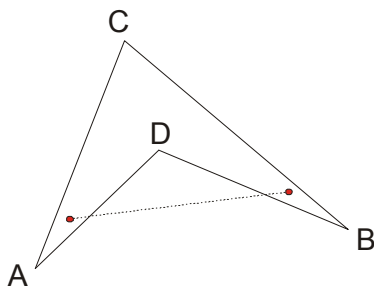
$$\alpha + \beta + \gamma + \delta = 360^0 \qquad \alpha_1 + \beta_1 + \gamma_1 + \delta_1 = 360^0$$

Najpre da kažemo da četvorouglovi mogu biti : **konveksni** i **nekonveksni**.

Četvorougao je **konveksan** ako duž koja spaja bilo koje dve tačke unutrašnje oblasti ostaje unutar četvorougla.



Četvorougao je **nekonveksan** ako duž koja spaja bilo koje dve tačke unutrašnje oblasti izlazi iz nje.



Podela četvorouglova može se izvršiti na više načina. Prvu podelu izvršio je još Euklid.

On ih je podelio u pet grupa: kvadrati, pravougaonici, rombovi, romboidi i trapezi.

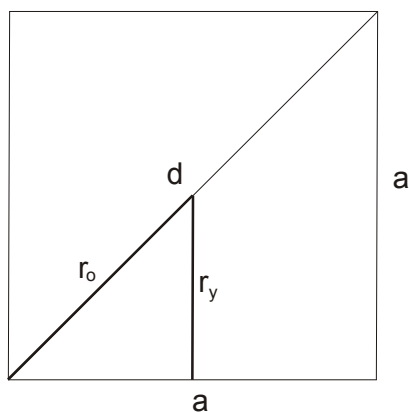
Međutim, danas je podela izvršena na sledeći način:

- 1) **Paralelogrami** (imaju po dva para paralelnih stranica)
- 2) **Trapezi** (imaju jedan par paralelnih stranica)
- 3) **Trapezoidi** (nemaju paralelne stranice)

Paralelogram je četvorougao čije su naspramne stranice paralelne.

KVADRAT

- Sva četiri ugla su mu prava
- Sve stranice su jednake
- Dijagonale su jednake i međusobno se polove pod pravim uglom
- Centralno simetrična je figura
- Ima 4 ose simetrije



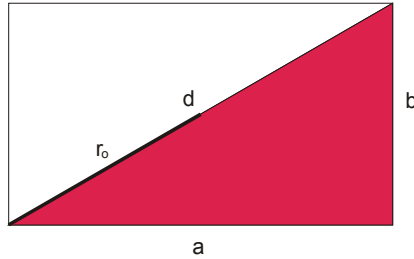
$$O = 4a$$

$$P = a^2 \quad \text{ili} \quad P = \frac{d^2}{2}, \quad r_y = \frac{a}{2} \quad \text{i} \quad r_o = \frac{d}{2} = \frac{a\sqrt{2}}{2}$$

$$d = a\sqrt{2} \quad \text{i} \quad \text{ako nam treba dužina stranice } a \text{ imamo dužinu dijagonale} \quad a = \frac{d\sqrt{2}}{2}$$

PRAVOUGAONIK

- Sva četiri ugla su mu prava
- Paralelne stranice su jednake
- Dijagonale su jednake i međusobno se polove
- Centralnosimetrična figura
- Ima 2 ose simetrije



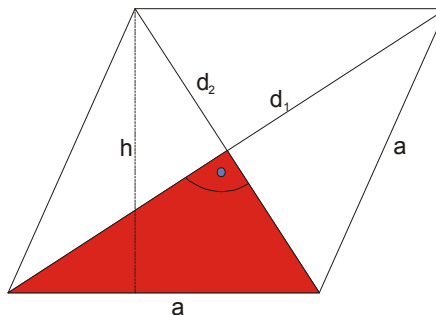
$$O = 2a + 2b$$

$$P = ab$$

$$r_o = \frac{d}{2} \quad \text{a dijagonalu nalazimo iz Pitagorine teoreme: } d^2 = a^2 + b^2$$

ROMB

- Sve četiri stranice su jednake
- Naspramni uglovi su jednaki a uzastopni su suplementni
- Dijagonale se međusobno polove pod pravim uglom
- Centralnosimetrična figura
- Ima dve ose simetrije



$$O = 4a$$

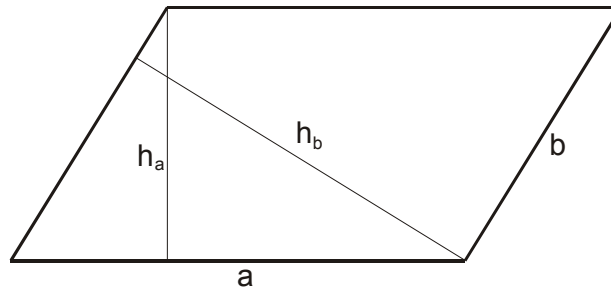
$$P = \frac{d_1 \cdot d_2}{2} \quad \text{ili} \quad P = ah$$

Može se upisati kružnica čiji je poluprečnik $r_y = \frac{h}{2}$

Pitagorina teorema se primenjuje na ošeni trougao: $a^2 = \left(\frac{d_1}{2}\right)^2 + \left(\frac{d_2}{2}\right)^2$

ROMBOID

- Paralelne stranice su jednake
- Naspramni uglovi su jednaki a uzastopni su suplementni
- Dijagonale se međusobno polove
- Centralnosimetrična figura



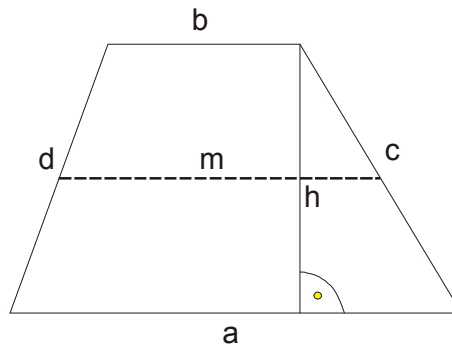
$$O = 2a + 2b$$

$$P = ah_a \quad \text{ili} \quad P = bh_b$$

Ne može da se opiše niti da se opiše kružnica .

Četvorougao čije su samo dve naspramne stranice paralelne zove se **TRAPEZ**.

Paralelne stranice se zovu osnovice, a druge dve kraci.

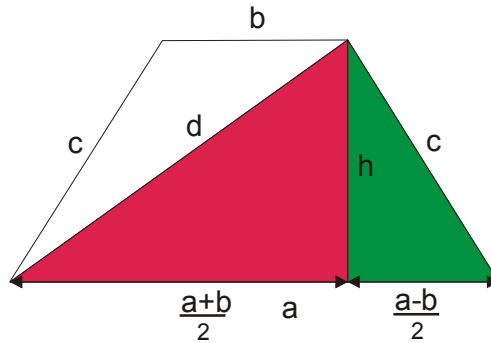


Stranice a i b su osnovice, c i d kraci. Duž koja spaja središta krakova je srednja linija

trapeza $m = \frac{a+b}{2}$. Naravno m je paralelna i sa a i sa b.

$$O = a+b+c+d ; \quad P = \frac{a+b}{2} \cdot h \quad \text{ili} \quad P = mh$$

JEDNAKOKRAKI TRAPEZ



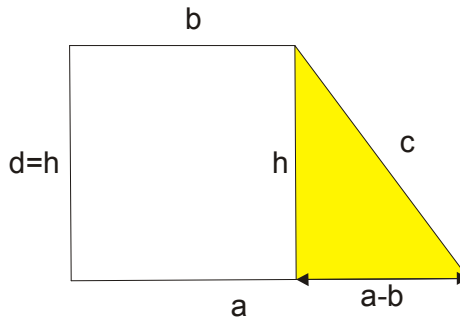
$$O = a + b + 2c$$

$$P = \frac{a+b}{2} \cdot h \quad \text{ili} \quad P = mh$$

Primena Pitagorine teoreme: $\left(\frac{a-b}{2}\right)^2 + h^2 = c^2$ (na zeleni trougao)

$$\left(\frac{a+b}{2}\right)^2 + h^2 = d^2 \quad (\text{na crveni trougao})$$

PRAVOUGLI TRAPEZ



$$O = a + b + c + h$$

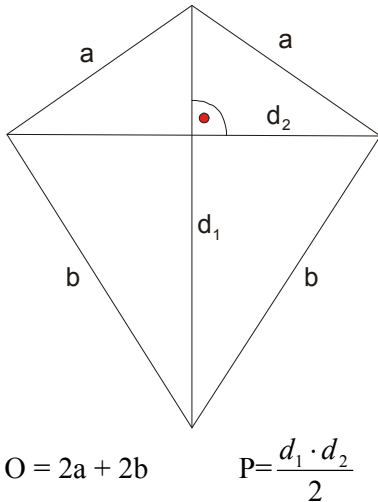
$$P = \frac{a+b}{2} \cdot h \quad \text{ili} \quad P = mh$$

Primena Pitagorine teoreme: $(a-b)^2 + h^2 = c^2$

Najpoznatiji trapezoid je **deltoid**.

DELTOID

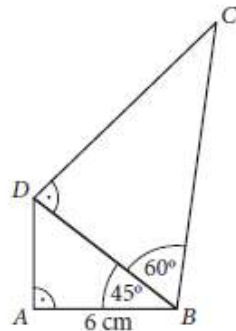
- Deltoid je trapezoid koji ima dva para jednakih uzastopnih stranica.
- Dijagonale deltoida su među sobom normalne.
- Simetrala deltoida je simetrala i njegovih uglova koje obrazuju jednake stranice
- Uglovi koje obrazuju nejednake stranice su među sobom jednaki.
- Dijagonale su istovremeno i simetrale uglova.



Evo sada par primera iz zbirke za pripremu male mature 2012. godine.

276. Израчунај обим четвороугла $ABCD$ на слици.
Прикажи поступак.

$O =$ _____ cm.



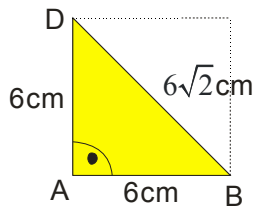
Rešenje:

Uočimo najpre da je trougao ABD jednakokrako pravougli trougao.

To nam govori da je $AD = 6$ cm.

U pripremnom fajlu smo govorili da je ovde zgodno izvršiti dopunu do punog kvadrata i da će onda stranica DB biti dijagonala tog kvadrata, a znamo da je formulica za dijagonalu kvadrata $a\sqrt{2}$.

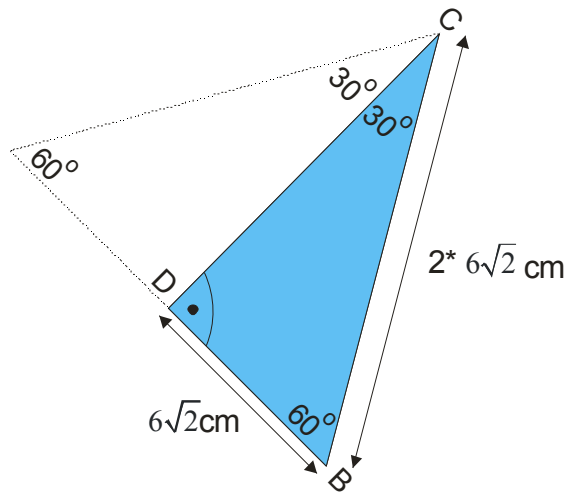
Pogledajmo sliku:



Znači, dobili smo $BD = 6\sqrt{2}$ cm.

Naravno, ovo isto bi dobili primenom Pitagorine teoreme na dati trougao .

Posmatrajmo sada trougao BCD. On je očigledno polovina jednakostraničnog trougla, pa ćemo i njega dopuniti.



Stranica BC je dvostruko veća od stranice BD, pa je $BC = 2 \cdot 6\sqrt{2} = 12\sqrt{2}$

DC je visina tog jednakostraničnog trougla čija je stranica $12\sqrt{2}$.

Preko formulice za visinu trougla, dobijamo:

$$h_a = \frac{a \sqrt{3}}{2} \rightarrow DC = \frac{12\sqrt{2} \sqrt{3}}{2} = 6\sqrt{6} \text{ cm}$$

Naravno, isto ovo bi dobili primenom Pitagorine teoreme na dati trougao!

Sad nam ostaje samo da saberemo dužine svih stranica i eto obima:

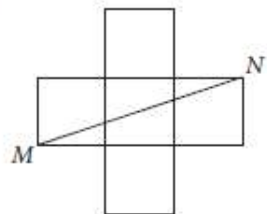
$$O = AB + BC + CD + AD$$

$$O = 6 + 12\sqrt{2} + 6\sqrt{6} + 6$$

$$O = 12 + 12\sqrt{2} + 6\sqrt{6}$$

$$O = 6(2 + 2\sqrt{2} + \sqrt{6}) \text{ cm}$$

277. Фигура на слици састављена је од пет подударних квадрата. Ако је $MN = 10$ cm, израчунај површину те фигуре. Прикажи поступак.



Површина фигуре је ____ cm².

Rešenje:

Применићемо Питагорино теорему на trougao MNP.

$$a^2 + (3a)^2 = 10^2$$

$$a^2 + 9a^2 = 100$$

$$10a^2 = 100$$

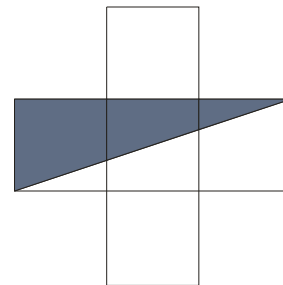
$$a^2 = 10$$

Ovo je površina jednog kvadratića. A pošto ih ima 5, površina figure će biti:

$$P_f = 5a^2$$

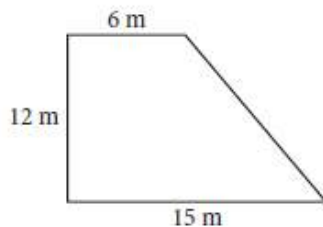
$$P_f = 5 \cdot 10$$

$$P_f = 50 \text{ cm}^2$$



Površina figure je 50cm²

280. Колико метара жице је потребно да би се оградило двориште облика правоуглог трапеца као на слици? Прикажи поступак.



Потребно је ____ m жице.

Rešenje:

Mi ustvari tražimo obim ovog trapeza! Moramo naći nepoznatu stranicu c. Pogledajmo sliku:

$$c^2 = (a - b)^2 + h^2$$

$$c^2 = 9^2 + 12^2$$

$$c^2 = 81 + 144$$

$$c^2 = 225$$

$$c = \sqrt{225}$$

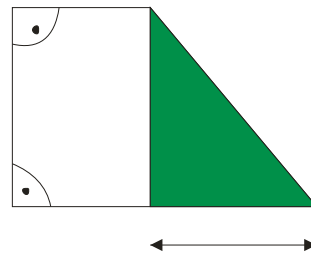
$$c = 15 \text{ m}$$

Obim je onda:

$$O = a + b + c + h$$

$$O = 15 + 6 + 15 + 12$$

$$O = 48 \text{ m}$$

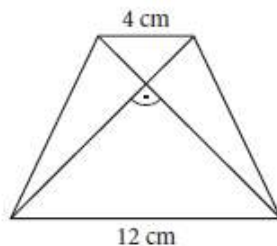


Odgovor na postavljeno pitanje je:

Potrebno je 48 m žice.

278. Дијагонале једнакокраког трапеца секу се под правим углом. Ако су дужине основица трапеца 12 cm и 4 cm, израчунај површину трапеца.

Прикажи поступак.

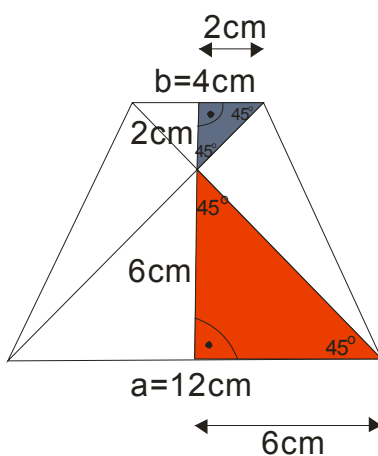


Површина трапеца је ____ cm².

Rešenje:

Proučimo najpre datu sliku.

Dijagonale se секу под правим углом, tako da dole i gore imamo jednakokrako pravouglo trouglove!



Označeni trouglovi su takodje jednakokrako pravouglo, pa će visina celog trapeza biti: $h = 6 + 2 = 8\text{cm}$

Sad nije teško naći površinu:

$$P = \frac{a+b}{2} \cdot h$$

$$P = \frac{12+4}{2} \cdot 8$$

$$P = \frac{16}{2} \cdot 8$$

$$P = 8 \cdot 8 \rightarrow \boxed{P = 64\text{cm}^2}$$

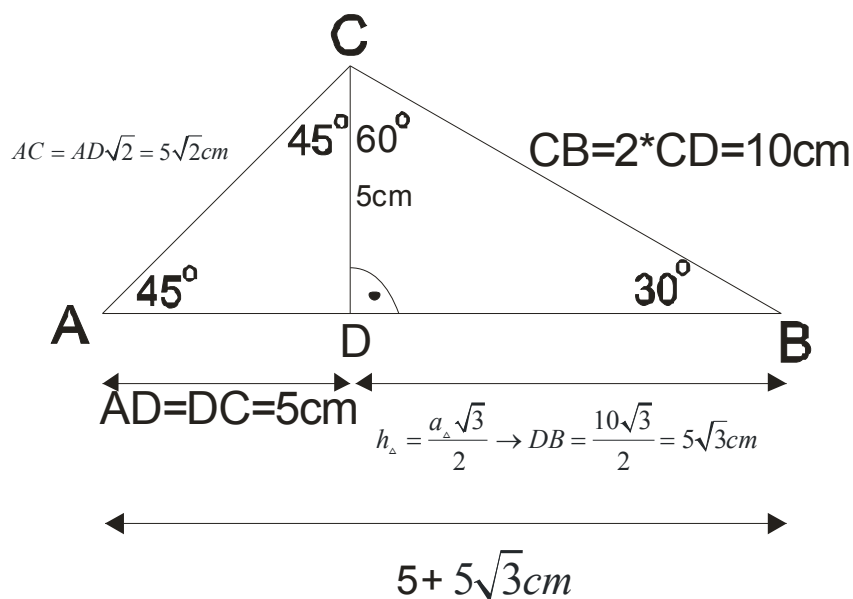
Površina trapeza je 64cm^2

279. Израчунај обим троугла ABC , ако је висина која одговара страници AB једнака 5 cm , унутрашњи угао код темена A је 45° и унутрашњи угао код темена B је 30° .

Прикажи поступак.

Rešenje:

Slika je ovde neophodna!



Najpre nadjemo uglove ova dva trougla.

Vršimo dopune do punog kvadrata (na trouglu ADC) i dopunu do jednakokraničnog trougla (na trouglu DBC), vrlo slično kao kod zadatka 256.

Na taj način dobijamo dužine stranica:

$$AB = (5 + 5\sqrt{3})\text{ cm}$$

$$BC = 10\text{ cm}$$

$$AC = 5\sqrt{2}\text{ cm}$$

Tražimo obim, dakle:

$$O = 5 + 5\sqrt{3} + 10 + 5\sqrt{2}$$

$$O = 15 + 5\sqrt{3} + 5\sqrt{2}$$

$$O = 5(3 + \sqrt{3} + \sqrt{2})\text{ cm}$$