

GEOMETRIJSKA VEROVATNOĆA

U slučaju kada se ishod nekog opita definiše slučajnim položajem tačke u nekoj oblasti, pri čemu je proizvoljni položaj tačke u toj oblasti jednako moguć, koristimo geometrijsku verovatnoću.

Ako, recimo, obeležimo da je “dimenzija” cele oblasti S , a S_p “dimenzija” dela te oblasti, čije se sve tačke smatraju

povoljnom za ishod događaja, onda se verovatnoća izračunava: $P = \frac{S_p}{S}$.

Reč dimenzija smo namerno stavili pod navodnike jer S_p i S mogu predstavljati duži, površine, zapremine itd.

U zadacima sa geometrijskom verovatnoćom je gotovo neophodno nacrtati sliku, uočiti koja dužina, površina ili zapremina je nama “povoljna”. Pažljivo čitajte zadatak ...

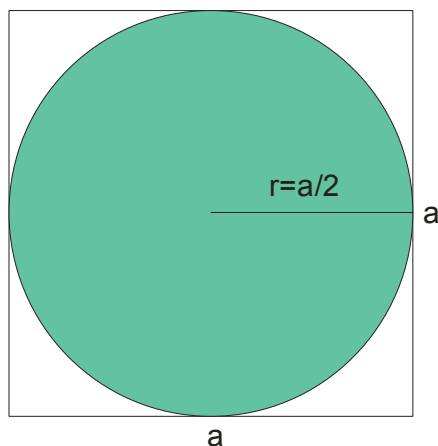
PRIMER 1.

U kvadratu je upisan krug. Odrediti verovatnoću da slučajno izabrana tačka u kvadratu pripada i krugu.

Rešenje:

Definišimo događaj A : “slučajno izabrana tačka je u krugu”

Da skiciramo problem:



Ovde nam očigledno trebaju površine.

Površina kvadrata stranice a je $S = a^2$. Poluprečnik upisanog kruga je polovina stranice kvadrata, pa je povoljna

$$\text{površina } S_p = r^2 \pi = \left(\frac{a}{2}\right)^2 \pi = \frac{a^2 \pi}{4}$$

$$\text{Oдавde je } P(A) = \frac{S_p}{S} = \frac{\frac{a^2 \pi}{4}}{a^2} = \frac{\cancel{a^2} \pi}{4 \cancel{a^2}} = \frac{\pi}{4} \approx 0,785$$

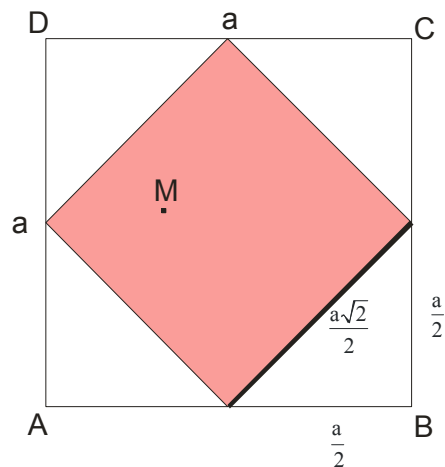
PRIMER 2.

Sredine stranica kvadrata, stranice a , spajanjem daju ponovo kvadrat. Tačka M je na slučajan način izabrana.

Odrediti verovatnoću da je izabrana tačka M iz drugog (manjeg) kvadrata.

Rešenje:

Definišimo događaj A: “ slučajno izabrana tačka M je u manjem kvadratu”



Ako je stranica većeg kvadrata a , onda dužinu stranice manjeg kvadrata možemo izračunati primenom Pitagorine

teoreme: $\frac{a\sqrt{2}}{2}$. Jasno je da se opet radi o površinama. S_p je povoljna površina manjeg kvadrata, dok je celokupna površina S , površina većeg kvadrata:

$$P(A) = \frac{S_p}{S} = \frac{\left(\frac{a\sqrt{2}}{2}\right)^2}{a^2} = \frac{a^2 \cdot 2}{4} = \frac{1}{2}$$

PRIMER 3.

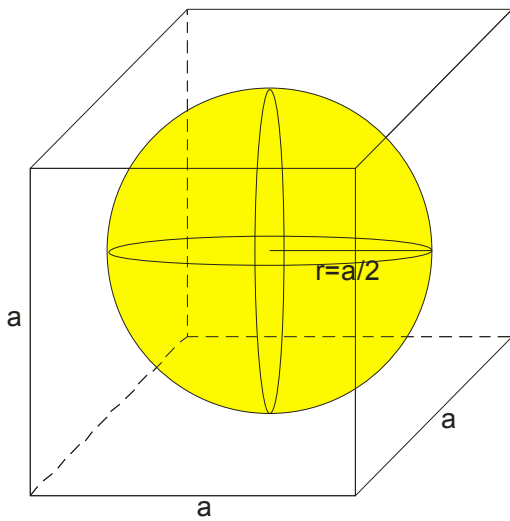
U datu kocku upisana je lopta. Odrediti verovatnoću da slučajno izabrana tačka pripada i unutrašnjosti lopte.

Rešenje:

Događaj A: “ slučajno izabrana tačka je u unutrašnjosti lopte”

U ovom primeru ćemo računati odnos zapremina.

Nacrtajmo sliku i nađimo vezu između poluprečnika i dužine stranice kocke.



S je zapremina kocke

S_p (povoljna zapremina) je zapremina lopte poluprečnika $\frac{a}{2}$, koja je upisana u kocku.

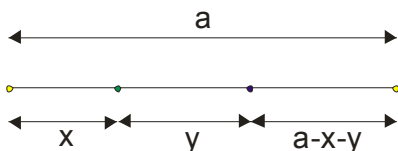
$$P(A) = \frac{S_p}{S} = \frac{V_L}{V_K} = \frac{\frac{4}{3}r^3\pi}{a^3} = \frac{\frac{4}{3}\left(\frac{a}{2}\right)^3\pi}{a^3} = \frac{\cancel{4} \cdot \cancel{a^3} \cdot \pi}{\cancel{3} \cdot \cancel{8}} = \frac{\pi}{6} \approx 0,52$$

PRIMER 4.

Duž dužine a podeljena je na tri dela. Odrediti verovatnoću da se od dobijenih delova može konstruisati trougao.

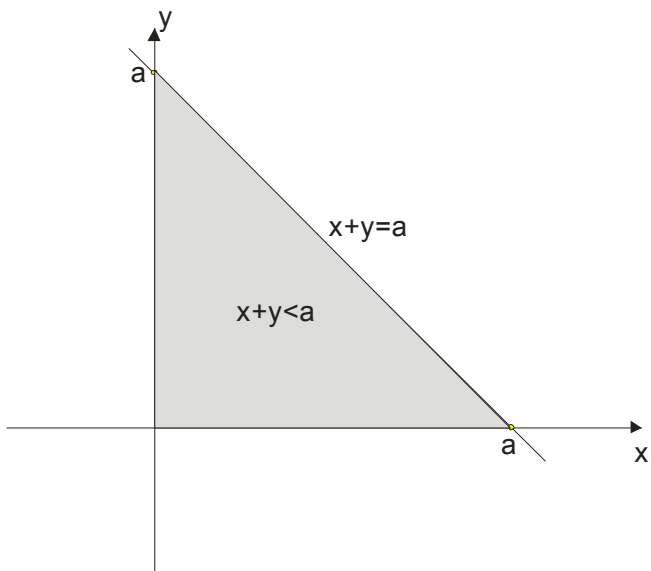
Rešenje:

Izdelimo najpre datu duž na proizvoljne delove: x , y , i $a-x-y$.



Oblast S u ravni čine sve tačke čije koordinate zadovoljavaju jednakost: $x + y < a$

Na slici bi to bilo:



Sad razmišljamo kako da dobijemo površinu S_p koja je nama povoljna.

Znamo da za stranice trougla mora da važi teorema da je zbir dve stranice trougla veći od treće stranice!

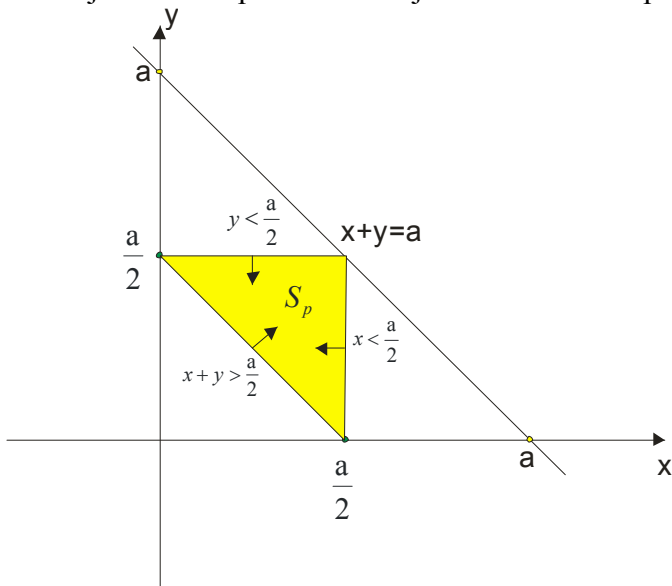
Stranice smo obeležili sa x , y , i $a-x-y$, pa je dakle:

$$x + y > a - x - y \quad \text{odavde je} \quad \boxed{x + y > \frac{a}{2}}$$

$$x + (a - x - y) > y \quad \text{odavde je} \quad \boxed{y < \frac{a}{2}}$$

$$y + (a - x - y) > x \quad \text{odavde je} \quad \boxed{x < \frac{a}{2}}$$

Nacrtajmo ove tri prave na našoj slici i dobićemo površinu koja nam je povoljna:



Sad možemo naći i traženu verovatnoću:

A: “ od dobijenih delova se može konstruisati trougao”

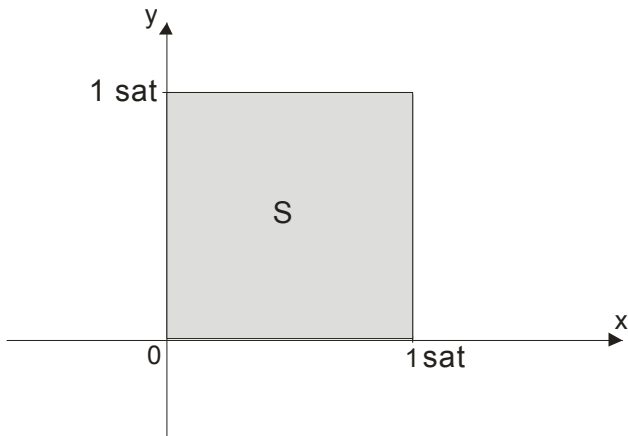
$$P(A) = \frac{S_p}{S} = \frac{\left(\frac{a}{2}\right)^2}{\frac{a^2}{4}} = \frac{\frac{a^2}{4}}{\frac{a^2}{4}} = \frac{1}{4} = 0,25$$

PRIMER 5.

Dve osobe zakazale su sastanak u toku jednog sata, na naznačenom mestu, uz obavezu čekanja 20 minuta ($\frac{1}{3}$ sata) . Odrediti verovatnoću susreta ako je dolazak svake od osoba jednako moguć u proizvoljnom momentu naznačenog vremena.

Rešenje:

Pošto su osobe zakazale susret u toku jednog sata, u ravni to možemo predstaviti kao površinu kvadrata stranice jedan.



$$S = P_{\text{kvadrata}} = 1^2 = 1$$

Označimo ovako:

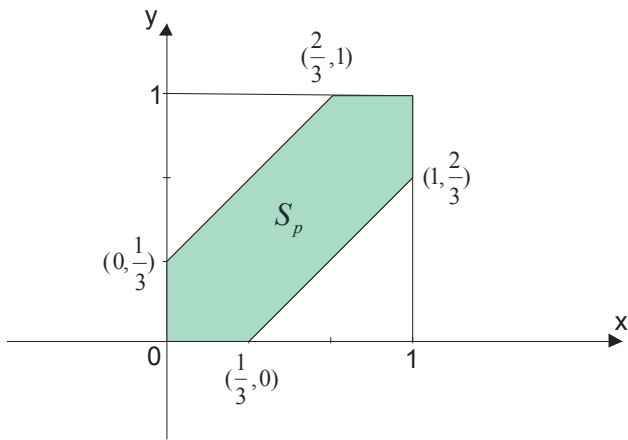
x - je trenutak dolaska prve osobe

y - je trenutak dolaska druge osobe

Kako je obaveza čekanja 20 min, to jest $\frac{1}{3}$ sata, **mora da važi:**

$$x - y \leq \frac{1}{3} \quad \text{i} \quad y - x \leq \frac{1}{3}$$

Nacrtrajmo ove dve prave i da vidimo koje oblasti zadovoljavaju nejednačine:



Površinu S_p ćemo dobiti kad od površine kvadrata oduzmemo površine ova dva pravouglata trouglića stranice $\frac{2}{3}$

$$S_p = P_{\text{kvadrata}} - 2 \cdot P_{\text{trougla}} = 1^2 - 2 \cdot \frac{\left(\frac{2}{3}\right)^2}{2} = 1 - \frac{4}{9} = \frac{5}{9}$$

A: “susret osoba u toku 1 sata sa obavezom čekanja 20 min”

$$P(A) = \frac{S_p}{S} = \frac{\frac{5}{9}}{1} = \frac{5}{9} \approx 0,56$$

PRIMER 6.

Dva broda moraju da stignu u jedno isto pristanište. Vreme dolaska obadva broda je nezavisno i jednako moguće u toku dana. Naći verovatnoću da će jedan od brodova morati čekati na oslobađanje pristaništa, ako je vreme zadržavanja prvog broda jedan, a drugog dva sata.

Rešenje:

Obeležimo sa :

x - vreme dolaska prvog broda

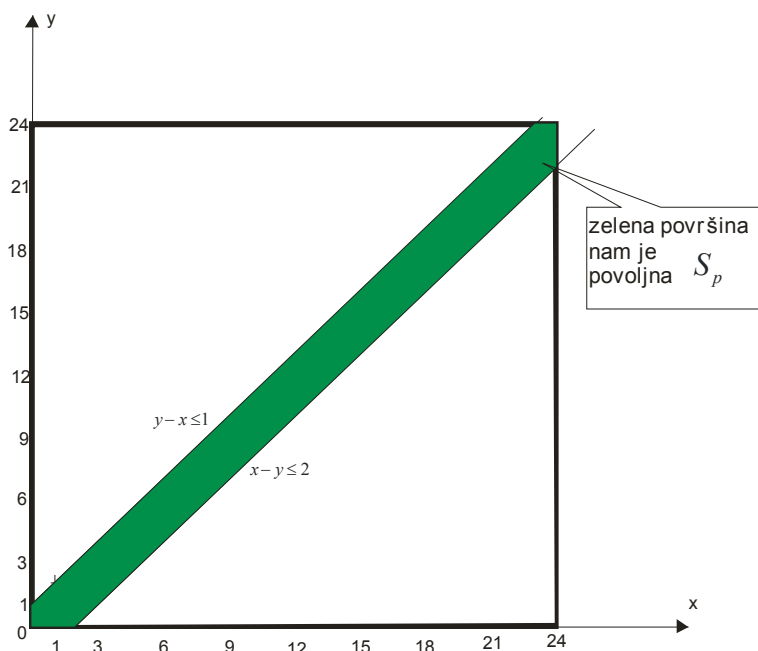
y - vreme dolaska drugog broda

Pošto u zadatku kaže da se radi o celom danu , to je $0 \leq x \leq 24$ i $0 \leq y \leq 24$, odnosno , površina S je površina kvadrata sa stranicama 24.

$$S = P_{\text{kvadrata}} = 24^2 = 576$$

Iz podatka da je vreme zadržavanja prvog broda jedan a drugog dva sata , dobijamo dve nejednačine:

$y - x \leq 1$ i $x - y \leq 2$. Nacrtajmo ove dve prave na slici i uočimo koje oblasti zadovoljavaju nejednačine:



Slično kao i u prethodnom zadatku, površinu S_p ćemo dobiti kad od površine kvadrata oduzmemo površine ova dva

pravouga trougla, pa je: $P(A) = \frac{S_p}{S} \approx 0,121$ gde je **A**: “brod čeka na oslobađanje pristaništa”

PRIMER 7.

Odrediti verovatnoću da slučajno izabrana tetiva kružnice bude veća od stranice jednakostraničnog trougla koji je upisan u tu kružnicu. (BERTRANDOV PARADOKS)

Rešenje:

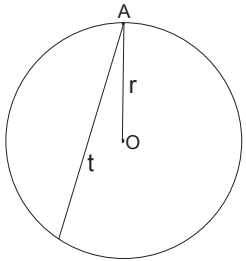
A: “nasumice izabrana tetiva je duža od stranice upisanog jednakostraničnog trougla”

Ovaj problem je zadao francuski matematičar Bertrand još davne 1889. godine i u matematici se po njemu i zove Bertrandov paradoks. Paradoks se sastoji u tome da se dobijaju **tri** različita rešenja zadatka, u zavisnosti od toga kako je povučena tetiva.

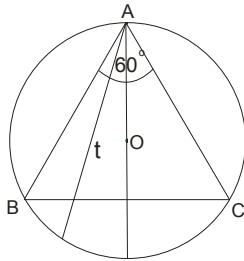
Posmatramo tri načina (nasumičnog) povlačenja tetive:

I način (fiksirana je jedna krajnja tačka tetive)

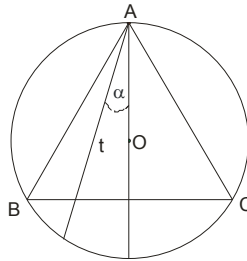
Na periferiji kruga proizvoljnog poluprečnika r uočimo tačku A i kroz nju povučemo tetivu u nasumice izabranom pravcu (slika 1). Upišemo u dati krug jednakostranični trougao čije je jedno teme tačka A . Spojimo tačku A sa centrom kruga O (može i da produžimo da bude ceo prečnik), pogledajte sliku 2.



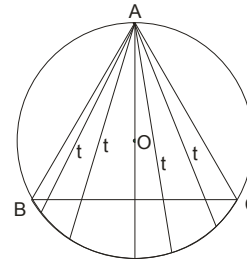
slika 1



slika 2



slika 3



slika 4

Označimo sa α ugađ koji tetiva gradi sa poluprečnikom AO . (slika 3)

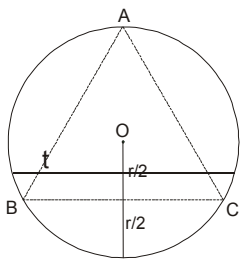
Sad razmišljamo: tetiva će biti duža od stranice trougla ako pravi uglove sa prečnikom do 30° . A kako to možemo izvesti sa obe strane (slika 4), zaključujemo da su nama povoljni uglovi do 60° , to jest do $60^\circ = \frac{\pi}{3}$.

Ugađ α može da uzima sve vrednosti do 180° , to jest do π .

Tražena verovatnoća je: $P(A) = \frac{\frac{\pi}{3}}{\pi} = \frac{1}{3}$

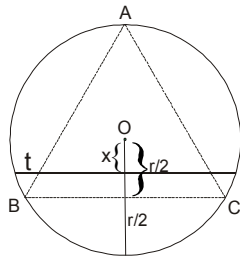
II način (ako je fiksiran pravac tetive)

Fiksiramo jedan pravac i povučemo nasumice tetivu kruga paralelno fiksiranom pravcu. Upišemo u krug jednakostraničan trougao ali tako da je jedna njegova stranica paralelna sa izabranim pravcem (slika 1.)



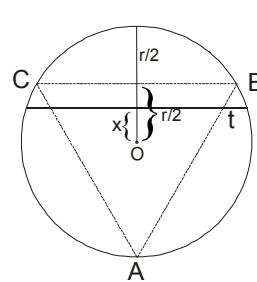
pravac p

slika 1.



pravac p

slika 2.



pravac p

slika 3.

Rastojanje stranice trougla od centra datog kruga je očigledno $\frac{r}{2}$. Obeležimo rastojanje tetive do centra sa x (slika 2.)

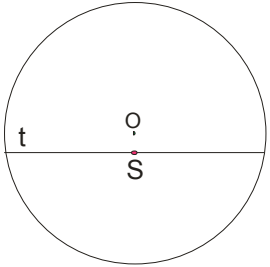
Sad razmišljamo: da bi tetiva bila duža od stranice trougla, njeno rastojanje mora biti kraće od $\frac{r}{2}$.

Istu situaciju imamo i ako okrenemo trougao (slika 3.), što nam govori da rastojanje x ide od 0 do r .

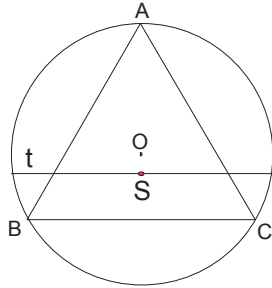
Tražena verovatnoća je u ovom slučaju $P(A) = \frac{r}{\frac{r}{2}} = \frac{1}{2}$

III način (znamo položaj središta tetive)

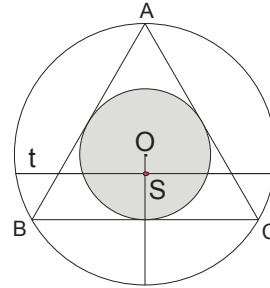
Izaberemo u krugu jednu tačku i kroz nju povučemo tetivu koja će biti prepolovljena tom tačkom(slika 1.)



slika 1.



slika 2.



slika 3.

Upišemo jednakostraničan trougao da stranica bude paralelna sa tetivom(slika 2.)

Sad razmišljamo: tetiva će imati veću dužinu od stranice jednakostraničnog trougla ako i samo ako njeno središte leži unutar kruga koji je upisan u taj jednakostranični trougao! (slika 3.)

Poluprečnik ovako upisanog kruga (sivog) je $\frac{r}{2}$ a površina $\left(\frac{r}{2}\right)^2 \pi = \frac{r^2 \pi}{4}$

Tražena verovatnoća je u ovom slučaju $P(A) = \frac{\frac{r^2 \pi}{4}}{r^2 \pi} = \frac{1}{4}$

Kao što vidimo, u sva tri slučaja smo dobili različite verovatnoće, što predstavlja paradoks.

Objašnjenje za ovaj paradoks leži u činjenici da zadatak (problem) nije precizno formulisan !

Ovde se ustvari radi o tri različita zadatka, u zavisnosti od toga šta podrazumevamo pod pojmom proizvoljne tetive.

Zato mi stalno ponavljamo da zadatke iz verovatnoće treba pažljivo čitati i polako proučavati uz odgovarajuću skicu problema...