

GRAFIČKO REŠAVANJE SISTEMA

Najčešći tip zadatka je onaj u kome se javlja jedna **kvadratna funkcija** $y = ax^2 + bx + c$ i jedna **linearna funkcija**

$$y = kx + n.$$

Naš savet je da najpre rešite sistem analitički (računski) pa tek onda da crtate grafike. Ako odmah crtate grafik

može se desiti da **za presek** (preseke) koje dobijete **ne možete precizno utvrditi koordinate...**

Evo par primera:

primer 1.

Grafički rešiti sistem:

$$x^2 - 2x + y + 4 = 0$$

$$x + y + 2 = 0$$

Rešenje:

Najpre ćemo izraziti y iz obe jednačine i rešiti sistem analitički.

$$x^2 - 2x + y + 4 = 0 \rightarrow y = -x^2 + 2x - 4$$

$$x + y + 2 = 0 \rightarrow y = -x - 2$$

Sad oformimo jednu jednačinu "po x" upoređujući leve strane ove dve jednakosti (desne su iste)

$$-x^2 + 2x - 4 = -x - 2$$

$$-x^2 + 2x - 4 + x + 2 = 0$$

$$-x^2 + 3x - 2 = 0$$

$$a = -1; b = 3; c = -2$$

$$x_{1,2} = \frac{-b \pm \sqrt{b^2 - 4ac}}{2a} = \frac{-3 \pm \sqrt{3^2 - 4 \cdot (-1) \cdot (-2)}}{2 \cdot (-1)} = \frac{-3 \pm \sqrt{1}}{-2} = \frac{-3 \pm 1}{-2}$$

$$x_1 = \frac{-3+1}{-2} = \frac{-2}{-2} \rightarrow x_1 = 1$$

$$x_2 = \frac{-3-1}{-2} = \frac{-4}{-2} \rightarrow x_2 = 2$$

Sad ove vrednosti vratimo u jednačinu $y = -x - 2$ da nađemo y koordinate:

Za $x_1 = 1$ je $y_1 = -1 - 2 \rightarrow y_1 = -3$ pa je jedno rešenje tačka (1, - 3)

Za $x_2 = 2$ je $y_1 = -2 - 2 \rightarrow y_1 = -4$ pa je drugo rešenje tačka (2, - 4)

Sad možemo i da nacrtamo grafike, ali u istom koordinatnom sistemu.

Naravno, lakše je nacrtati pravu...Uzećemo dve tačke, recimo $x=0$, pa naći y , a zatim uzmemo $y=0$ pa nađemo x .

$$y = -x - 2 \text{ imamo}$$

x	0	-2
y	-2	0

Kvadratnu funkciju nećemo detaljno ispitivati (naravno, vi morate ako vaš profesor zahteva) već samo neophodne stvari:

$$y = -x^2 + 2x - 4$$

Nule funkcije:

$$-x^2 + 2x - 4 = 0$$

$$a = -1; b = 2; c = -4$$

$$x_{1,2} = \frac{-b \pm \sqrt{b^2 - 4ac}}{2a} = \frac{-2 \pm \sqrt{2^2 - 4(-1)(-4)}}{2(-1)} = \frac{-2 \pm \sqrt{-12}}{-12}$$

Oдавde zaključujemo da nemamo realnih rešenja, odnosno da grafik ove kvadratne funkcije nigde ne seče x osu.

Presek sa y osom

Da se podsetimo, presek sa y osom je u tački c , a u ovom slučaju je $c = -4$

Teme funkcije

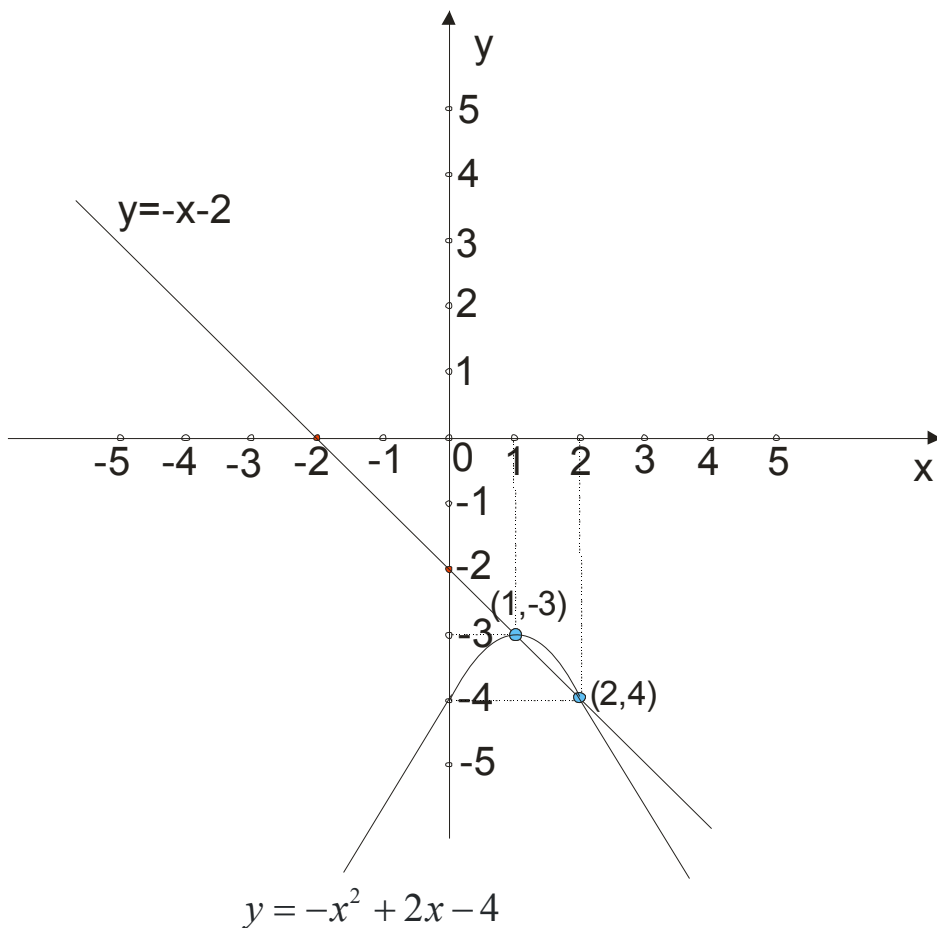
$$T(\alpha, \beta)$$

$$\alpha = -\frac{b}{2a} = -\frac{2}{2 \cdot (-1)} = 1$$

$$\beta = -\frac{D}{4a} = -\frac{b^2 - 4ac}{4a} = -\frac{-12}{4 \cdot (-1)} = -3$$

$$T(1, -3)$$

Sada možemo nacrtati grafike :



Vidimo da se grafička rešenja poklapaju sa analitičkim.

primer 2.

Grafički rešiti sistem:

$$y = x^2 - 4x + 3$$

$$y = 2x - 6$$

Rešenje:

Najpre da rešimo računski:

$$y = x^2 - 4x + 3$$

$$y = 2x - 6$$

$$x^2 - 4x + 3 = 2x - 6$$

$$x^2 - 4x + 3 - 2x + 6 = 0$$

$$x^2 - 6x + 9 = 0 \rightarrow (x - 3)^2 = 0 \rightarrow \boxed{x_1 = x_2 = 3} \rightarrow y = 2 \cdot 3 - 6 \rightarrow \boxed{y_1 = y_2 = 0}$$

Dakle, postoji samo jedno rešenje ovog sistema, tačka $(3,0)$. To nam govori da će se grafici prave i parabole seći samo u jednoj tački (odnosno da je prava tangenta parabole)

x	0	-3
y	-6	0

Za pravu $y = 2x - 6$ imamo da je

Za parabolu $y = x^2 - 4x + 3$

Nule funkcije:

$$x^2 - 4x + 3 = 0$$

$$a = 1; b = -4; c = 3$$

$$x_{1,2} = \frac{-b \pm \sqrt{b^2 - 4ac}}{2a} = \frac{4 \pm \sqrt{(-4)^2 - 4 \cdot 1 \cdot 3}}{2} = \frac{4 \pm 2}{2}$$

$$x_1 = 3; x_2 = 1$$

Presek sa y osom

Presek sa y osom je u tački c , a u ovom slučaju je $c = 3$

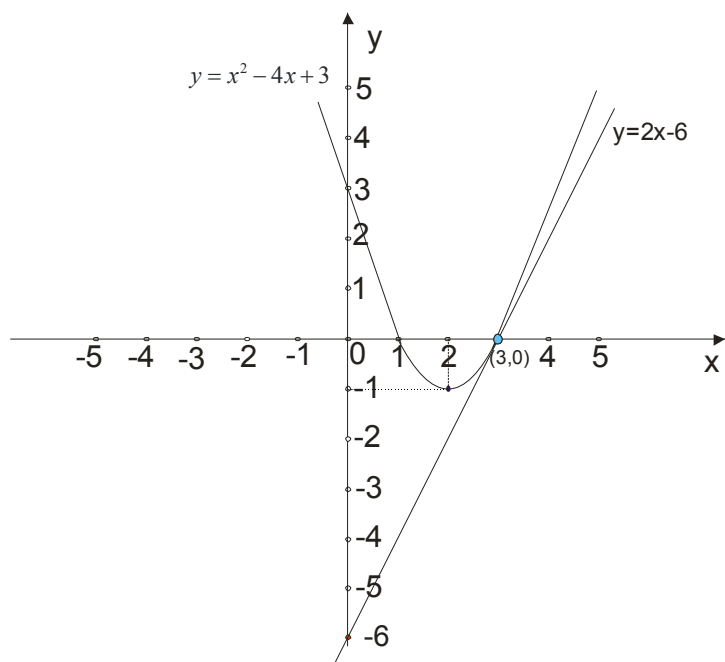
Teme funkcije

$T(\alpha, \beta)$

$$\alpha = -\frac{b}{2a} = -\frac{-4}{2 \cdot 1} = 2$$

$$\beta = -\frac{D}{4a} = -\frac{b^2 - 4ac}{4a} = -\frac{4}{4 \cdot 1} = -1$$

$$T(2, -1)$$



primer 3.

Grafički rešiti sistem:

$$y = x^2$$

$$y = x - 1$$

Rešenje:

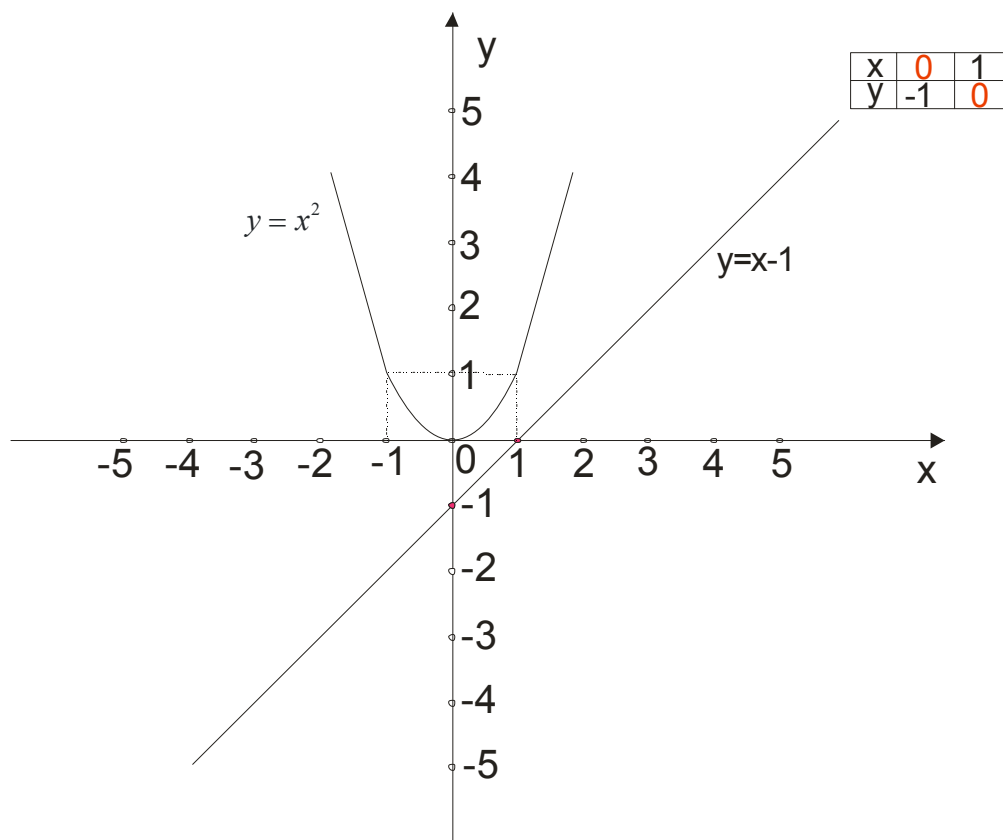
$$y = x^2$$

$$y = x - 1$$

$$x^2 = x - 1$$

$$x^2 - x + 1 = 0 \rightarrow D = b^2 - 4ac = 1 - 4 = -3 \rightarrow \boxed{D < 0}$$

Sistem nema realna rešenja. Dakle, **grafici se ne seku!**



Zaključak:

Kad imamo da grafički rešimo sistem $y = ax^2 + bx + c$ i $y = kx + n$ može se desiti da imamo dve presečne tačke (primer 1.), da se seku u jednoj tački (primer 2.) ili da nema preseka (primer 3.)

Evo par primera kad nije data linearna funkcija (prava).

primer 4.

Grafički rešiti sistem:

$$xy = 12$$

$$x + y = 7$$

Rešenje:

Kao i uvek, rešimo sistem najpre računski...Iz druge jednačine izrazimo y i zamenimo u prvu jednačinu:

$$xy = 12$$

$$x + y = 7$$

$$x + y = 7 \rightarrow y = 7 - x \rightarrow \text{zamenimo u prvu jed. } xy = 12$$

$$x(7 - x) = 12$$

$$7x - x^2 - 12 = 0$$

$$x^2 - 7x + 12 = 0 \rightarrow x_{1,2} = \frac{7 \pm \sqrt{1}}{2} \rightarrow x_1 = 4 \wedge x_2 = 3$$

$$x_1 = 4 \rightarrow y_1 = 7 - x_1 \rightarrow y_1 = 3 \rightarrow \boxed{(4, 3)}$$

$$x_2 = 3 \rightarrow y_2 = 7 - x_2 \rightarrow y_2 = 4 \rightarrow \boxed{(3, 4)}$$

Rešili smo zadatak analitički...

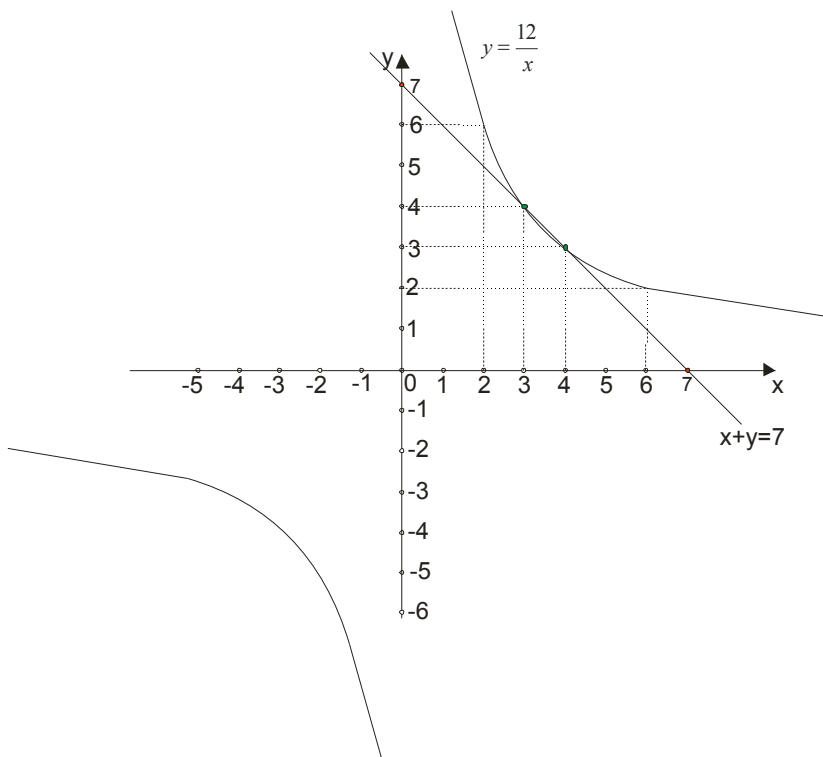
x	0	7
y	7	0

Za pravu kao i uvek, uzimamo dve tačke:

Za hiperbolu $y = \frac{12}{x}$ ćemo uzeti nekoliko tačaka, a ako se sećate od ranije, ona će pripadati prvom i trećem kvadrantu:

x	-4	-3	-2	-1	1	2	3	4
y	-3	-4	-6	-12	12	6	4	3

Sada skiciramo grafik:



primer 5.

Grafički reši sistem:

$$y = x^2 - 4x + 4$$

$$y = -x^2 + 3x - 2$$

Rešenje:

$$y = x^2 - 4x + 4$$

$$y = -x^2 + 3x - 2$$

$$x^2 - 4x + 4 = -x^2 + 3x - 2$$

$$x^2 - 4x + 4 + x^2 - 3x + 2 = 0$$

$$2x^2 - 7x + 6 = 0 \rightarrow x_1 = 2 \wedge x_2 = \frac{3}{2}$$

Sad ove vrednosti zamenimo u bilo koju od dve jednačine (recimo u prvu) :

$$y = x^2 - 4x + 4$$

$$x_1 = 2 \wedge x_2 = \frac{3}{2}$$

$$x_1 = 2 \rightarrow y_1 = 2^2 - 4 \cdot 2 + 4 = 0 \rightarrow \boxed{(2, 0)}$$

$$x_2 = \frac{3}{2} \rightarrow y_2 = \left(\frac{3}{2}\right)^2 - 4 \cdot \frac{3}{2} + 4 = \frac{1}{4} \rightarrow \boxed{\left(\frac{3}{2}, \frac{1}{4}\right)}$$

Dobili smo tačke preseka.

Po već poznatom postupku ispitamo tok dve zadate kvadratne funkcije i skiciramo:

